


Nom et Prénom :

Matricule : Groupe :



Exercice 1 (5 points) :

- Déterminer $u(x, y)$ et $v(x, y)$ telles que $z^2 + e^{2z} = u(x, y) + iv(x, y)$.
- Vérifier les équations de Cauchy-Riemann pour les fonctions u et v .
- Montrer que les fonctions u et v sont harmoniques.

Réponse.

a) On a

$$\begin{aligned} z^2 + e^{2z} &= (x + iy)^2 + e^{2x+2iy} = x^2 - y^2 + 2xyi + e^{2x} (\cos(2y) + i \sin(2y)) \\ &= x^2 - y^2 + e^{2x} \cos(2y) + (2xy + e^{2x} \sin(2y)) i. \end{aligned}$$

Alors

$$u(x, y) = x^2 - y^2 + e^{2x} \cos(2y)$$

et

$$v(x, y) = 2xy + e^{2x} \sin(2y).$$

b) On a

$$\begin{aligned} \frac{\partial u}{\partial x} &= 2x + 2e^{2x} \cos(2y), \quad \frac{\partial v}{\partial y} = 2x + 2e^{2x} \cos(2y) \quad \longrightarrow \quad \frac{\partial u}{\partial x} = \frac{\partial v}{\partial y}. \\ \frac{\partial u}{\partial y} &= -2y - 2e^{2x} \sin(2y), \quad \frac{\partial v}{\partial x} = 2y + 2e^{2x} \sin(2y) \quad \longrightarrow \quad \frac{\partial u}{\partial y} = -\frac{\partial v}{\partial x}. \end{aligned}$$

Nous constatons que les équations de Cauchy-Riemann sont satisfaites sur \mathbb{C} .

c) On a

$$\begin{aligned} \frac{\partial u}{\partial x} &= 2x + 2e^{2x} \cos(2y) \quad \longrightarrow \quad \frac{\partial^2 u}{\partial x^2} = 2 + 4e^{2x} \cos(2y), \\ \frac{\partial u}{\partial y} &= -2y - 2e^{2x} \sin(2y) \quad \longrightarrow \quad \frac{\partial^2 u}{\partial y^2} = -2 - 4e^{2x} \cos(2y), \end{aligned}$$

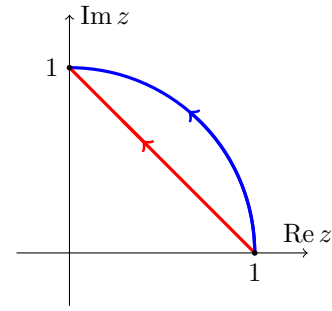
et

$$\begin{aligned} \frac{\partial v}{\partial x} &= 2y + 2e^{2x} \sin(2y) \quad \longrightarrow \quad \frac{\partial^2 v}{\partial x^2} = 4e^{2x} \sin(2y), \\ \frac{\partial v}{\partial y} &= 2x + 2e^{2x} \cos(2y) \quad \longrightarrow \quad \frac{\partial^2 v}{\partial y^2} = -4e^{2x} \cos(2y). \end{aligned}$$

On obtient alors $\frac{\partial^2 u}{\partial x^2} + \frac{\partial^2 u}{\partial y^2} = 0$, $\frac{\partial^2 v}{\partial x^2} + \frac{\partial^2 v}{\partial y^2} = 0$, ce qui montre que u et v sont harmoniques.

Exercice 2 (5 points) :

- a) Calculer $\int_C (\bar{z}^2 + 3z^2) dz$ le long
1. du cercle $|z| = 1$ de $(1, 0)$ à $(0, 1)$ dans le sens direct,
 2. du segment de droite joignant $(1, 0)$ et $(0, 1)$.
- b) Expliquer pourquoi ces deux intégrales sont différentes.

**Réponse.****a)**

1. L'arc de $(1, 0)$ à $(0, 1)$ du cercle $|z| = 1$ peut être paramétré par $z = e^{it}$, $t \in [0, \frac{\pi}{2}]$.

Les points $(1, 0)$ et $(0, 1)$ de l'arc, correspondent respectivement à $t = 0$ et $t = \frac{\pi}{2}$.

L'intégrale donnée a alors pour valeur

$$\begin{aligned} \int_{t=0}^{\frac{\pi}{2}} \left((e^{-it})^2 + 3(e^{it})^2 \right) d(e^{it}) &= \int_0^{\frac{\pi}{2}} (e^{-2it} + 3e^{2it}) i e^{it} dt = \int_0^{\frac{\pi}{2}} (i e^{-it} + 3i e^{3it}) dt \\ &= \left[-e^{-it} + e^{3it} \right]_0^{\frac{\pi}{2}} = -e^{-i\frac{\pi}{2}} + e^{i\frac{3\pi}{2}} - (-e^{-0} + e^0) \\ &= i - i - (-1 + 1) = 0. \end{aligned}$$

2. Le segment d'extrémités $z_0 = 1 \equiv (1, 0)$ et $z_1 = i \equiv (0, 1)$ noté $[z_0, z_1]$ peut être paramétré par

$$z(t) = (1-t)z_0 + tz_1 = (1-t) + ti, \quad 0 \leq t \leq 1.$$

Sur le segment $[z_0, z_1]$, on a alors $dz = z'(t) dt = (i-1) dt$ et l'intégrale donnée vaut

$$\begin{aligned} \int_{[z_0, z_1]} (\bar{z}^2 + 3z^2) dz &= \int_0^1 ((1-t-ti)^2 + 3(1-t+ti)^2) (i-1) dt \\ &= \left[\frac{i-1}{3(-1-i)} (1-t-ti)^3 + (1-t+ti)^3 \right]_0^1 \\ &= \frac{(i-1)(-i)^3}{3(-1-i)} + i^3 - \frac{i-1}{3(-1-i)} - 1 = \frac{-1-i}{3(-1-i)} - i - \frac{i-1}{3(-1-i)} - 1 \\ &= \frac{1}{3} - i + \frac{i}{3} - 1 = -\frac{2}{3} - \frac{2}{3}i. \end{aligned}$$

- b) La fonction à intégrer $f(z) = \bar{z}^2 + 3z^2$ n'est pas holomorphe car $\frac{\partial}{\partial \bar{z}} f(z) = 2\bar{z} \neq 0$, donc l'intégrale dépend du chemin suivi et pas seulement du point d'arrivée et du point de départ.

Exercice 3 (5 points) :

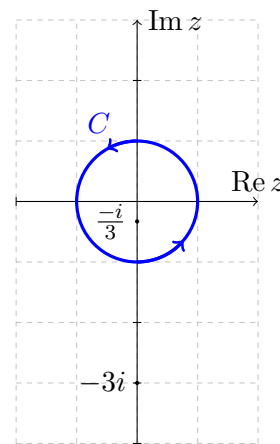
a) Par application de la formule intégrale de Cauchy, calculer $\int_C \frac{1}{z+3i} dz$ et

$\int_C \frac{1}{z+\frac{i}{3}} dz$ où C désigne le cercle $|z|=1$ dans le sens direct.

b) En déduire $\int_C \frac{2}{3z^2+10iz-3} dz$. **Indication.** Noter que $\frac{8i}{3z^2+10iz-3} = \frac{1}{z+\frac{i}{3}} - \frac{1}{z+3i}$.

c) En utilisant la paramétrisation $z = e^{it}$, $t \in [0, 2\pi]$ du cercle C , vérifier que

$$\int_0^{2\pi} \frac{1}{5+3\sin t} dt = \int_C \frac{2}{3z^2+10iz-3} dz, \text{ puis en déduire } \int_0^{2\pi} \frac{1}{5+3\sin t} dt.$$



Réponse.

a) Seul $-\frac{i}{3}$ est à l'intérieur de C , car

$$\left| -\frac{i}{3} \right| = \frac{1}{3} < 1 \text{ et } |-3i| = 3 > 1.$$

Alors, l'application de la formule de Cauchy

$$\int_C \frac{f(z)}{z-a} dz = \begin{cases} 2\pi i f(a) & \text{si } a \in \text{Int } C \\ 0 & \text{si } a \notin \text{Int } C \end{cases}$$

pour $a = -\frac{i}{3}$ puis $a = -3i$ avec $f(z) = 1$ donne

$$\int_C \frac{1}{z+3i} dz = 0 \text{ et } \int_C \frac{1}{z+\frac{i}{3}} dz = 2\pi i.$$

b) On a $\frac{2}{3z^2+10iz-3} = \frac{1}{4i} \left(\frac{1}{z+\frac{i}{3}} - \frac{1}{z+3i} \right)$. Alors

$$\int_C \frac{2}{3z^2+10iz-3} dz = \frac{1}{4i} \left(\int_C \frac{1}{z+\frac{i}{3}} dz - \int_C \frac{1}{z+3i} dz \right) = \frac{1}{4i} (2\pi i - 0) = \frac{\pi}{2}.$$

c) On pose $z = e^{it}$. D'où $\sin t = \frac{e^{it} - e^{-it}}{2i} = \frac{z - z^{-1}}{2i}$, $dz = ie^{it} dz = iz dt$ et donc

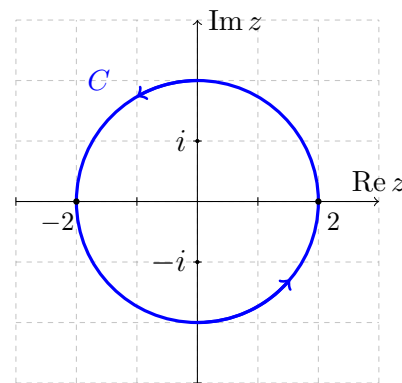
$$\int_0^{2\pi} \frac{1}{5+3\sin t} dt = \int_C \frac{1}{5+3\frac{z-z^{-1}}{2i}} \frac{dz}{iz} = \int_C \frac{2}{3z^2+10iz-3} dz.$$

On a alors

$$\int_0^{2\pi} \frac{1}{5+3\sin t} dt = \int_C \frac{2}{3z^2+10iz-3} dz = \frac{\pi}{2}.$$

Exercice 4 (5 points) : On considère la fonction $f(z) = \frac{2z}{z^2 + 1}$.

Soit C le cercle $|z| = 2$ orienté dans le sens direct.



a) Par application de la formule intégrale de Cauchy, calculer

$$\int_C \frac{2z}{z^2 + 1} dz. \text{ Indication : } \frac{2z}{z^2 + 1} = \frac{1}{z - i} + \frac{1}{z + i}.$$

b) En utilisant la paramétrisation $z = 2e^{it}$, $t \in [0, 2\pi]$ du cercle C ,

$$\text{recalculer } \int_C \frac{2z}{z^2 + 1} dz.$$

c) Trouver les résidus de $f(z)$ en **tous les pôles**.

d) Comparer le résultat obtenu en (a) et (b) avec la somme des résidus de la question (c).

Réponse.

a) Les deux points singuliers i et $-i$ sont à l'intérieur de C , car $|i| = 1 < 2$ et $|-i| = 1 < 2$.

Alors, l'application de la formule de Cauchy

$$\int_C \frac{f(z)}{z - a} dz = \begin{cases} 2\pi i f(a) & \text{si } a \in \text{Int } C \\ 0 & \text{si } a \notin \text{Int } C \end{cases}$$

pour $a = i$ puis $a = -i$ avec $f(z) = 1$ donne $\int_C \frac{1}{z - i} dz = 2\pi i$ et $\int_C \frac{1}{z + i} dz = 2\pi i$.

$$\text{Par conséquent } \int_C \frac{2z}{z^2 + 1} dz = \int_C \frac{1}{z - i} dz + \int_C \frac{1}{z + i} dz = 2\pi i + 2\pi i = 4\pi i.$$

b) Le cercle $|z| = 2$ est paramétré par $z = 2e^{it}$, $t \in [0, 2\pi]$. Alors $dz = 2ie^{it} dt$ et donc

$$\begin{aligned} \int_C \frac{2z}{z^2 + 1} dz &= \int_0^{2\pi} \frac{4e^{it}}{4e^{2it} + 1} 2ie^{it} dt = \int_0^{2\pi} \frac{8ie^{2it}}{4e^{2it} + 1} dt \\ &= [\text{Log}(4e^{2it} + 1)]_0^{2\pi} = \text{Log}(4e^{4i\pi} + 1) - \text{Log}(4e^0 + 1) \\ &= |4e^{4i\pi} + 1| + i \arg(4e^{4i\pi} + 1) - |4e^0 + 1| - i \arg(4e^0 + 1) \\ &= 5 + 4i\pi - 5 - 0 = 4i\pi. \end{aligned}$$

c) La fonction $f(z) = \frac{2z}{z^2 + 1}$ possède deux pôles simples en $z = -i$ et $z = i$.

$$\text{Le résidu en } z = -i \text{ est } \text{Res}(f, -i) = \lim_{z \rightarrow -i} (z + i) \frac{2z}{z^2 + 1} = \lim_{z \rightarrow -i} (z + i) \frac{2z}{(z + i)(z - i)} = \lim_{z \rightarrow -i} \frac{2z}{z - i} = \frac{-2i}{-2i} = 1.$$

$$\text{Le résidu en } z = i \text{ est } \text{Res}(f, i) = \lim_{z \rightarrow i} (z - i) \frac{2z}{z^2 + 1} = \lim_{z \rightarrow i} (z - i) \frac{2z}{(z + i)(z - i)} = \lim_{z \rightarrow i} \frac{2z}{z + i} = \frac{2i}{2i} = 1.$$

d) Le résultat obtenu dans (a) et (b) est $\int_C \frac{2z}{z^2 + 1} dz = 4\pi i$.

Nous constatons que $4\pi i = 2\pi i(1 + 1) = 2\pi i(\text{Res}(f, -i) + \text{Res}(f, i))$.